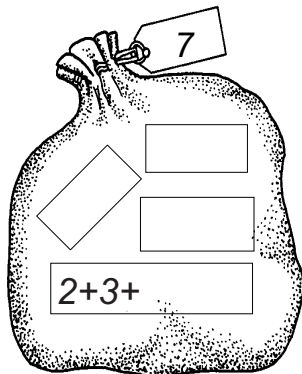
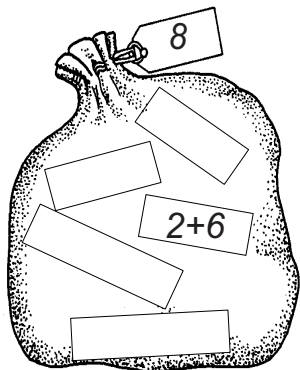
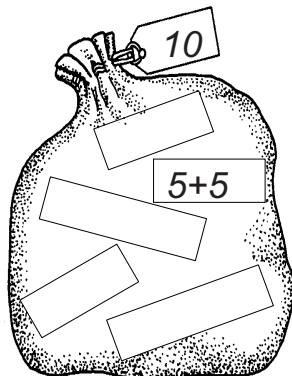



Помози



да напуни цакове!



Моја новогодишња математичка вежба



Повежи картице са одговарајућим пакетом.



$3 + 3$



$5 + 3$

$10 - 1$



$3 + 7$



$10 - 2$

$9 - 3$

$10 - 3$



$4 + 3$



$4 + 5$

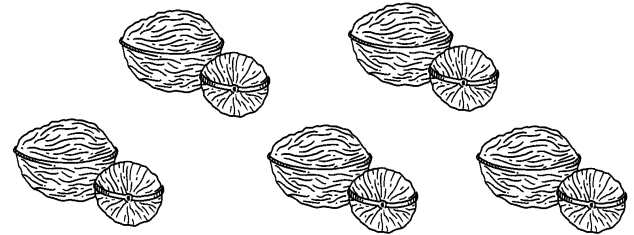
$9 - 4$

$4 + 6$

$3 + 2$





Помози веверици да преброји орахе.
Запиши колико ораха има веверица, као збир
више сабирака.



Веверица имаораха.

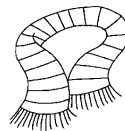
Попуни табелу тако да укупан
збир бројева одговара броју на крову



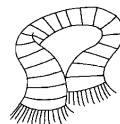
Обој према датом упутству:



2+3

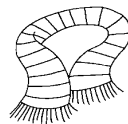



3+3

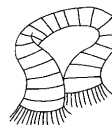


5+2

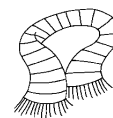
Лонци: 10-црвено 9-плаво 8-зелено
Шалови: 5-црвено 6-плаво 7-зелено



9-4



10-3



8-2



Попуни табеле:

5	+	5	=		
7	+	2	=		
4	+	4	=		
3	+	6	=		
4	+		=	8	
6	+		=	9	
4	+		=	6	
3	+		=	5	
4	+		=	4	

	6	-	5	=	
	8	-	3	=	
	7	-	4	=	
	5	-	3	=	
1	0	-		=	4
	8	-		=	6
	6	-		=	2
	9	-		=	5
	5	-		=	5



На јелци су ___ кугле и ___ звезде.

Рачунај: _____ + _____ = _____

На јелци је укупно _____ украса.

Обој Деда Мраза према шеми:



9 = црвено

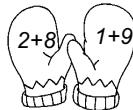
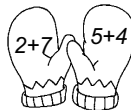


7=жуто 6 = црно

8 = браон

5 = бело

Исеци слагалицу па залепи на одговарајућа места.

$3+2=$ __	$4+3=$ __	$6+3=$ __
$4+6=$ __	$2+1=$ __	$3+5=$ __
$1+1=$ __	$4+2=$ __	$1+3=$ __



10 = црвено
 9 = плаво
 8 = жуто
 7 = браон
 6 = наранџасто
 5 = зелено

