



ЗИМСКА ВЕЖБАНКА за ђаке трећаке



Попуни табеле:

•	6	2	5	8	10	4	3
6							
3							
10							
2							
5							
7							
1							
4							
9							
8							



$4 \cdot 2 + 7 =$	$6 \cdot 4 + 5 =$	$7 \cdot 8 + 4 =$	$3 \cdot 5 + 7 =$
$4 \cdot 3 - 7 =$	$6 \cdot 4 - 5 =$	$7 \cdot 8 - 4 =$	$3 \cdot 5 - 7 =$
$9 \cdot 8 + 3 =$	$0 \cdot 1 + 7 =$	$7 \cdot 4 + 9 =$	$9 \cdot 6 + 7 =$
$9 \cdot 8 - 3 =$	$0 \cdot 1 - 0 =$	$7 \cdot 4 - 9 =$	$9 \cdot 6 - 7 =$
$8 \text{ y } 56 =$	$8 \text{ y } 64 =$	$8 \text{ y } 48 =$	$8 \text{ y } 32 =$
$6 \text{ y } 30 =$	$6 \text{ y } 24 =$	$6 \text{ y } 18 =$	$6 \text{ y } 60 =$
$4 \text{ y } 32 =$	$4 \text{ y } 12 =$	$4 \text{ y } 4 =$	$4 \text{ y } 28 =$
$5 \text{ y } 15 =$	$5 \text{ y } 50 =$	$5 \text{ y } 25 =$	$5 \text{ y } 5 =$
$3 \text{ y } 30 =$	$5 \text{ y } 30 =$	$6 \text{ y } 30 =$	$10 \text{ y } 30 =$



Упиши знак $>$: $<$ или $=$

505 ___ 550 515 ___ 551 525 ___ 525 396 ___ 369

101 ___ 121 426 ___ 624 264 ___ 462 264 ___ 264

441 ___ 414 534 ___ 543 909 ___ 990 666 ___ 606



Уочи правило и попуни табелу:

20	40	60				
800	770	740				
625	650	675				
120	240	360				

Израчунај и упиши број тако да једнакост буде тачна:

$400 + 500 = \underline{\hspace{2cm}}$ $250 + 350 = \underline{\hspace{2cm}}$ $670 + \underline{\hspace{2cm}} = 1000$

$300 + \underline{\hspace{2cm}} = 800$ $255 + 45 = \underline{\hspace{2cm}}$ $795 + \underline{\hspace{2cm}} = 1000$

$900 - 300 = \underline{\hspace{2cm}}$ $700 - 250 = \underline{\hspace{2cm}}$ $800 - \underline{\hspace{2cm}} = 450$

$255 - 125 = \underline{\hspace{2cm}}$ $659 - \underline{\hspace{2cm}} = 590$ $1000 - 899 = \underline{\hspace{2cm}}$



Израчунај:

$$81 : 9 - 30 : 6 = \underline{\hspace{2cm}}$$

$$27 : 3 - 20 : 5 = \underline{\hspace{2cm}}$$

$$80 : 8 - 24 : 3 = \underline{\hspace{2cm}}$$

$$35 : 5 - 14 : 2 = \underline{\hspace{2cm}}$$

$$40 : 5 - 15 : 3 = \underline{\hspace{2cm}}$$






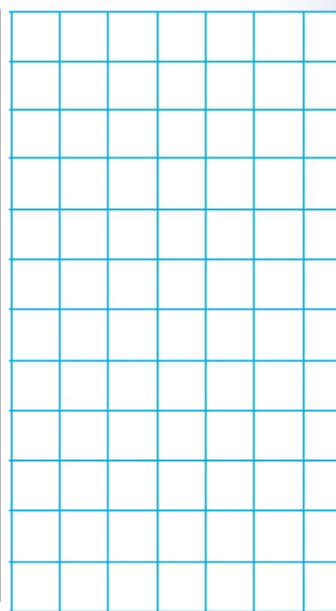
Попуни табелу:

$2 * 10 =$	$8 * 10 =$	$6 * 10 =$	$10 * 5 =$	$3 * 3 =$
$7 * 5 =$	$1 * 9 =$	$1 * 4 =$	$3 * 9 =$	$6 * 5 =$
$9 * 8 =$	$5 * 5 =$	$8 * 2 =$	$3 * 4 =$	$8 * 3 =$
$9 * 3 =$	$8 * 6 =$	$1 * 7 =$	$10 * 2 =$	$4 * 2 =$
$6 * 3 =$	$6 * 2 =$	$7 * 10 =$	$1 * 10 =$	$5 * 2 =$
$9 * 6 =$	$9 * 4 =$	$7 * 3 =$	$6 * 7 =$	$6 * 8 =$
$1 * 8 =$	$7 * 7 =$	$7 * 8 =$	$5 * 10 =$	$2 * 5 =$
$1 * 6 =$	$5 * 3 =$	$2 * 2 =$	$1 * 5 =$	$8 * 5 =$
$9 * 2 =$	$4 * 8 =$	$2 * 4 =$	$7 * 2 =$	$2 * 6 =$
$3 * 7 =$	$2 * 8 =$	$8 * 4 =$	$5 * 4 =$	$3 * 8 =$
$6 * 4 =$	$8 * 9 =$	$4 * 9 =$	$2 * 3 =$	$7 * 9 =$
$10 * 9 =$	$10 * 3 =$	$3 * 5 =$	$10 * 6 =$	$10 * 7 =$
$8 * 7 =$	$4 * 3 =$	$4 * 6 =$	$2 * 9 =$	$1 * 2 =$
$10 * 10 =$	$4 * 10 =$	$9 * 10 =$	$3 * 10 =$	$10 * 8 =$
$3 * 2 =$	$6 * 6 =$	$7 * 6 =$	$2 * 7 =$	$9 * 5 =$
$5 * 8 =$	$6 * 9 =$	$5 * 9 =$	$7 * 4 =$	$1 * 3 =$
$3 * 7 =$	$5 * 6 =$	$8 * 8 =$	$4 * 7 =$	$9 * 9 =$
$6 * 2 =$	$3 * 6 =$	$7 * 5 =$	$10 * 4 =$	$9 * 7 =$



У продавници зимске одеће продају се рукавице, капе и шалови.
Израчунај колико је артикала продато у току једне радне недеље.

			
ПОНЕДЕЉАК	1 3 2	1 1 5	8 9
УТОРАК	8 6	2 0 8	1 0 7
СРЕДА	9 7	6 6	1 2 6
ЧЕТВРТАК	1 1 2	5 3	1 1 8
ПЕТАК	2 5 4	1 2 7	9 9
СУБОТА	5 5	4 8	1 0 8



Колико је пари рукавица и капа продато у среду?

Колико је капа и шалова продато у четвртак?

Колико је пари рукавица, капа и шалова продато у петак?



Израчунај и упиши слова.

9	0	3
-	2	7

A

9	1	1
-	3	1

M

5	2	3
-	1	6

H

4	0	3
-	1	2

E

9	0	0
-	6	5

O

6	5	4
-	4	5

I

8	3	2
-	1	4

B

5	2	2
-	3	3

3

275	688	241

358	628	598

189	196	598	275



1. У следећим реченицама одреди:

По значењу:

По облику:

Субјекат:

Предикат:

П.о.м.

П.о.н.

П.о.в.

Именице:

Глаголи:



Целе ноћи снег је непрестано падао и покрио је шумске стазе.

Јуче је Коста лудо возио санке на снегу.

Напољу лепршају пахуљице и чује се тихи, дечји гласић.

Синоћ је у начем граду лагано вејао снег.

Јутрос је тата брзо истрчао из куће.

Милан се синоћ слатко смејао у позоришту.

2. Следећа реченица дата је усадашњем времену. Напиши је у прошлом и будућем:

Пас трчи по пољу.

3. Напиши следеће именице умножини:

Човек-

Клупа –

Седло –

Пас –

Дете –



4. Допуни једнину, односно множину датих именица:

пећи - _____, село - _____, другови - _____,

лутке - _____, песма - _____, облак - _____,

чамци - _____, голуб - _____.

5. Препиши све глаголе из реченица и поред сваког напиши да ли он казује радњу, стање или збивање.

Ко је написао задатак?

Мара је размишљала.

Грми и сева над брдима.

6. Одреди службу речи у следећим реченицама:

Милан радо иде суботом у позориште.

Синоћ је у нашем граду лагано вејао снег.

Цвеће ујутру опојно мирише у башти.



7.) Запиши:

- а) Две обавштајне реченице.
- б) Две упитне реченице.
- в) Две узвичне реченице.

8.) Настави записивање упитних реченица како је почето:

- а) Да ли ... д) Где ...
- б) Јеси ли ... ђ) Зашто ...
- в) Ко ... е) Како ...
- г) Шта ... ж) Због чега ...



9.) Препиши текст правилно (пази на велико слово и правописним знацима):

здравко јовановић живи у улици анђе ранковић недавно се разболео посетили су га другови из стражиловске и новосадске улице донели су му занимљиву књигу најлепше бајке света пошто је досадно лежати он је узео карту србије и у мислима путовао пловио је дунавом и савом пењао се на авалу и копаоник летео је до вршца и смедерева није ни стигао назад у зрењанин а већ је оздравио

10.) Напиши једну упитну одричну реченицу .

11.) Распореди речи из датог скупа:

гумица, дрво, пише, бојице, сече, пас, блок, учи, Драган, гледа, мрав, врата, копа, књига, пчела, сева, гром, птица, врата, со.

ПРЕДМЕТИ:

БИЋА:

РАДЊА:

12.) Препиши текст, па подвуци именице:

Ученик је журио у школу. На леђима му је била велика торба. Одједном, испред њега слете врабац. Гладна мачка је са ограде скочила на плен. Врабац је био у невољи, али се иза ћошка изненада појавио пас. Појурио је мачку, а она се вешто попела на танку брезу.

13.) Стрелицама повежи речи које означавају ко шта ради:

цвеће	пљушти
пчела	лаје
ветар	зуји
киша	мирише
пас	дува



14.) Од повезаних речи из претходног задатка састави реченице, тако да их прошириш својим речима.